

**Федеральное государственное бюджетное образовательное учреждение высшего образования
«Волжский государственный университет водного транспорта»
(ФГБОУ ВО «ВГУВТ») Пермский филиал**

ЗАДАНИЯ ПО ИНФОРМАТИКЕ
для подготовки к вступительным испытаниям в 2024 году

ВАРИАНТ 1

1

Сколько единиц в двоичной записи шестнадцатеричного числа $F1A0_{16}$?

Ответ: _____.

2

Миша заполнял таблицу истинности функции $(\neg x \wedge \neg y) \vee (y \equiv z) \vee \neg w$, но успел заполнить лишь фрагмент из трёх **различных** её строк, даже не указав, какому столбцу таблицы соответствует каждая из переменных w, x, y, z .

				$(\neg x \wedge \neg y) \vee (y \equiv z) \vee \neg w$
0		0	1	0
	0		1	0
0	1	1		0

Определите, какому столбцу таблицы соответствует каждая из переменных w, x, y, z .

В ответе напишите буквы w, x, y, z в том порядке, в котором идут соответствующие им столбцы (сначала буква, соответствующая первому столбцу; затем буква, соответствующая второму столбцу, и т.д.). Буквы в ответе пишите подряд, никаких разделителей между буквами ставить не нужно.

Пример. Если бы функция была задана выражением $\neg x \vee y$, зависящим от двух переменных, а фрагмент таблицы имел бы вид

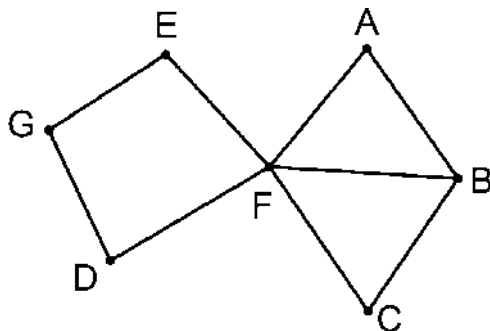
		$\neg x \vee y$
0	1	0

то первому столбцу соответствовала бы переменная y , а второму столбцу – переменная x . В ответе следовало бы написать yx .

Ответ: _____.

3

На рисунке слева изображена схема дорог N -ского района, в таблице звёздочкой обозначено наличие дороги из одного населённого пункта в другой. Отсутствие звёздочки означает, что такой дороги нет.



		Номер пункта						
		1	2	3	4	5	6	7
Номер пункта	1			*	*			
	2				*	*	*	
	3	*						*
	4	*	*			*	*	*
	5		*		*			
	6		*		*			
	7			*	*			

Каждому населённому пункту на схеме соответствует его номер в таблице, но неизвестно, какой именно номер. Определите, какие номера населённых пунктов в таблице могут соответствовать населённым пунктам D и E на схеме. В ответе запишите эти два номера в возрастающем порядке без пробелов и знаков препинания.

Ответ: _____.

4

Ниже представлены два фрагмента таблиц из базы данных о жителях микрорайона. Каждая строка таблицы 2 содержит информацию о ребёнке и об одном из его родителей. Информация представлена значением поля ID в соответствующей строке таблицы 1. Определите на основании приведённых данных, у скольких детей на момент их рождения отцам было меньше 24 полных лет. При вычислении ответа учитывайте только информацию из приведённых фрагментов таблиц.

Таблица 1			
ID	Фамилия_И.О.	Пол	Год_рождения
14	Краснова Н.А.	Ж	1942
24	Сканави И.П.	М	1943
25	Сканави П.И.	М	1973
26	Сканави П.П.	М	2000
34	Кущенко А.И.	Ж	1964
35	Кущенко В.С.	Ж	1987
36	Кущенко С.С.	М	1964
41	Лебедь А.С.	Ж	1941
45	Лебедь В.А.	М	1953
46	Гросс О.С.	Ж	1992
47	Гросс П.О.	М	2008
54	Клычко А.П.	Ж	1993
64	Кроп П.А.	Ж	1964

Таблица 2	
ID_Родителя	ID_Ребёнка
24	25
44	25
25	26
64	26
24	34
44	34
34	35
36	35
14	36
34	46
36	46
25	54
64	54

5

По каналу связи передаются зашифрованные сообщения, содержащие только пять букв: А, Б, В, Г, Д. Для передачи используется неравномерный двоичный код. Для букв А, Б и В используются кодовые слова 1100, 1110, 11010 соответственно. Укажите минимальную сумму длин кодовых слов для букв Г и Д, при которой код будет удовлетворять условию Фано. *Примечание.* Условие Фано означает, что никакое кодовое слово не является началом другого кодового слова. Это обеспечивает возможность однозначной расшифровки закодированных сообщений.

Ответ: _____.

6

На вход алгоритма подаётся натуральное число N . Алгоритм строит по нему новое число R следующим образом.

1) Строится двоичная запись числа N .

2) К этой записи дописываются справа ещё два разряда по следующему правилу: если N нечётное, в конец числа (справа) дописывается сначала ноль, а затем единица. В противном случае, если N чётное, справа дописывается сначала единица, а затем ноль. Например, двоичная запись 1001 числа 9 будет преобразована в 100101, а двоичная запись 1100 числа 12 будет преобразована в 110010.

Полученная таким образом запись (в ней на два разряда больше, чем в записи исходного числа N) является двоичной записью числа R – результата работы данного алгоритма.

Укажите максимальное число R , которое меньше 89 и может являться результатом работы данного алгоритма. В ответе это число запишите в десятичной системе счисления.

Ответ: _____.

7

Дан фрагмент электронной таблицы. Из ячейки A2 в ячейку B1 была скопирована формула. При копировании адреса ячеек в формуле автоматически изменились. Каким стало числовое значение формулы в ячейке B1?

	A	B	C	D	E
1	40		400	70	7
2	=C3*D4	3	300	60	6
3	20	2	200	50	5
4	10	1	100	40	4

Примечание. Знак \$ обозначает абсолютную адресацию.

Ответ: _____.

8

Запишите число, которое будет напечатано в результате выполнения следующей программы. Для Вашего удобства программа представлена на пяти языках программирования.

Бейсик	Python
<pre>DIM S, N AS INTEGER S = 250 N = 0 WHILE S - N > 0 S = S - 5 N = N + 25 WEND PRINT N</pre>	<pre>s = 250 n = 0 while s - n > 0: s = s - 5 n = n + 25 print(n)</pre>
Алгоритмический язык	Паскаль
<pre><u>алг</u> <u>нач</u> <u>цел</u> n, s s := 250 n := 0 <u>нц пока</u> s - n > 0 s := s - 5 n := n + 25 <u>кц</u> <u>вывод</u> n <u>кон</u></pre>	<pre>var s, n: integer; begin s := 250; n := 0; while s - n > 0 do begin s := s - 5; n := n + 25 end; writeln(n) end.</pre>
C++	
<pre>#include <iostream> using namespace std; int main() { int s = 250, n = 0; while (s - n > 0) { s = s - 5; n = n + 25; } cout << n << endl; return 0; }</pre>	

Ответ: _____.

9

В терминологии сетей TCP/IP маской сети называется двоичное число, определяющее, какая часть IP-адреса узла сети относится к адресу сети, а какая – к адресу самого узла в этой сети. Обычно маска записывается по тем же правилам, что и IP-адрес, – в виде четырёх байтов, причём каждый байт записывается в виде десятичного числа. При этом в маске сначала (в старших разрядах) стоят единицы, а затем с некоторого разряда – нули. Адрес сети получается в результате применения поразрядной конъюнкции к заданному IP-адресу узла и маске.

Например, если IP-адрес узла равен 231.32.255.131, а маска равна 255.255.240.0, то адрес сети равен 231.32.240.0.

Для узла с IP-адресом 117.191.84.37 адрес сети равен 117.191.80.0. Чему равно наименьшее возможное значение третьего слева байта маски? Ответ запишите в виде десятичного числа.

Ответ: _____.

10

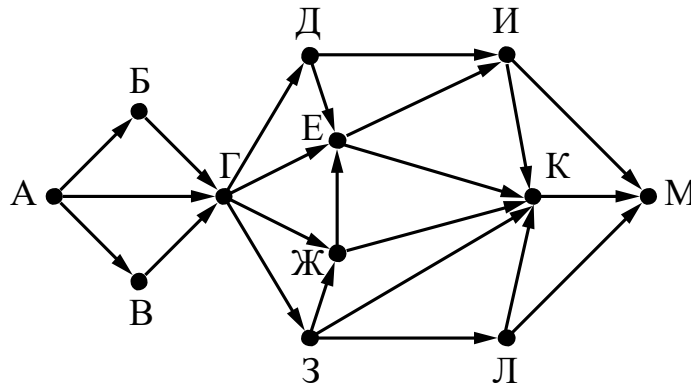
При регистрации в компьютерной системе каждому пользователю выдаётся пароль, состоящий из семи символов и содержащий только десятичные цифры и символы из 26-символьного набора прописных латинских букв. В базе данных для хранения сведений о каждом пользователе отведено одинаковое и минимально возможное целое число байт. При этом используют посимвольное кодирование паролей, все символы кодируют одинаковым и минимально возможным количеством бит. Кроме собственно пароля, для каждого пользователя в системе хранятся дополнительные сведения, для чего выделено целое число байт; это число одно и то же для всех пользователей.

Для хранения сведений о 20 пользователях потребовалось 500 байт. Сколько байт выделено для хранения дополнительных сведений об одном пользователе? В ответе запишите только целое число – количество байт.

Ответ: _____.

11

На рисунке представлена схема дорог, связывающих города А, Б, В, Г, Д, Е, Ж, З, И, К, Л, М. По каждой дороге можно двигаться только в одном направлении, указанном стрелкой. Сколько существует различных путей из города А в город М?



Ответ: _____.

12

В языке запросов поискового сервера для обозначения логической операции «ИЛИ» используется символ «|», а для обозначения логической операции «И» – символ «&».

В таблице приведены запросы и количество найденных по ним страниц некоторого сегмента сети Интернет.

Запрос	Найдено страниц (в сотнях тысяч)
<i>Поле</i>	40
<i>Пшеница</i>	24
<i>Напряжённость</i>	44
<i>Поле & Пшеница</i>	16
<i>Напряжённость & Поле</i>	19
<i>Напряжённость & Пшеница</i>	0

Какое количество страниц (в сотнях тысяч) будет найдено по запросу
Напряжённость | Поле | Пшеница?

Считается, что все запросы выполнялись практически одновременно, так что набор страниц, содержащих все искомые слова, не изменялся за время выполнения запросов.

Ответ: _____.

13

Исполнитель Май15 преобразует число на экране.

У исполнителя есть две команды, которым присвоены номера:

1. Прибавить 1

2. Умножить на 2

Первая команда увеличивает число на экране на 1, вторая умножает его на 2.

Программа для исполнителя Май15 – это последовательность команд.

Сколько существует программ, для которых при исходном **числе 1** результатом является **число 21** и при этом траектория вычислений содержит **число 10** и не содержит **числа 15**?

Траектория вычислений программы – это последовательность результатов выполнения всех команд программы. Например, для программы **121** при исходном числе 7 траектория будет состоять из чисел 8, 16, 17.

Ответ: _____.

14

Требовалось написать программу, которая получает на вход натуральное число N , не превосходящее 10^9 , и выводит число, равное количеству цифр 4 в десятичной записи числа N . Программист написал программу неправильно. Ниже написанная им программа для Вашего удобства приведена на пяти языках программирования.

Бейсик	Python
<pre> DIM N AS LONG DIM R, d AS INTEGER INPUT N R = 0 WHILE N > 0 d = N MOD 10 IF d <> 4 THEN R = R + d END IF N = N \ 10 WEND PRINT R END </pre>	<pre> N = int(input()) R = 0 while N > 0: d = N % 10 if d != 4: R = R + d N = N // 10 print(R) </pre>
Алгоритмический язык	Паскаль
<pre> алг нач цел N, R, d ввод N R := 0 нц пока N > 0 d := mod(N, 10) если d <> 4 то R := R + d все N := div(N, 10) кц вывод R кон </pre>	<pre> var N: longint; R, d: integer; begin readln(N); R := 0; while N > 0 do begin d := N mod 10; if d <> 4 then R := R + d; N := N div 10; end; writeln(R); end. </pre>

C++

```
#include <iostream>
using namespace std;

int main()
{
    long int N;
    int R, d;
    cin >> N;
    R = 0;
    while (N > 0) {
        d = N % 10;
        if (d != 4) {
            R = R + d;
        }
        N = N / 10;
    }
    cout << R << endl;
    return 0;
}
```

Последовательно выполните следующее.

1. Напишите, что выведет эта программа при вводе числа 241.
2. Приведите пример входного числа N , при котором приведённая программа, несмотря на ошибки, выдаёт верный ответ.
3. Найдите допущенные программистом ошибки и исправьте их. Исправление ошибки должно затрагивать только строку, в которой находится ошибка. Для каждой ошибки:
 - 1) выпишите строку, в которой сделана ошибка;
 - 2) укажите, как исправить ошибку, т.е. приведите правильный вариант строки.

Известно, что в тексте программы нужно исправить не более двух строк так, чтобы она стала работать правильно.

Достаточно указать ошибки и способ их исправления для одного языка программирования.

Обратите внимание на то, что требуется найти ошибки в имеющейся программе, а не написать свою, возможно, использующую другой алгоритм решения.

Два игрока, Паша и Валя, играют в следующую игру. Перед игроками лежит куча камней. Игроки ходят по очереди, первый ход делает Паша. За один ход игрок может добавить в кучу **один** камень или увеличить количество камней в куче в **два раза**. Например, имея кучу из 15 камней, за один ход можно получить кучу из 16 или 30 камней. У каждого игрока, чтобы делать ходы, есть неограниченное количество камней.

Игра завершается в тот момент, когда количество камней в куче становится не менее 42. Если при этом в куче оказалось не более 74 камней, то победителем считается игрок, сделавший последний ход. В противном случае победителем становится его противник. Например, если в куче было 39 камней и Паша удвоит количество камней в куче, то игра закончится и победителем будет Валя. В начальный момент в куче было S камней, $1 \leq S \leq 41$.

Будем говорить, что игрок имеет *выигрышную стратегию*, если он может выиграть при любых ходах противника. Описать стратегию игрока – значит описать, какой ход он должен сделать в любой ситуации, которая ему может встретиться при различной игре противника.

Выполните следующие задания.

1. а) При каких значениях числа S Паша может выиграть в один ход?
Укажите все такие значения и соответствующие ходы Паши.
б) У кого из игроков есть выигрышная стратегия при $S = 40, 39, 38$?
Опишите выигрышные стратегии для этих случаев.
2. У кого из игроков есть выигрышная стратегия при $S = 20, 19$? Опишите соответствующие выигрышные стратегии.
3. У кого из игроков есть выигрышная стратегия при $S = 18$? Постройте дерево всех партий, возможных при этой выигрышной стратегии (в виде рисунка или таблицы). На рёбрах дерева указывайте, кто делает ход; в узлах – количество камней в позиции.

ВАРИАНТ 2

1

Сколько единиц в двоичной записи десятичного числа 513?

Ответ: _____.

2

Миша заполнял таблицу истинности функции $(x \wedge \neg y) \vee (x \equiv z) \vee \neg w$, но успел заполнить лишь фрагмент из трёх **различных** её строк, даже не указав, какому столбцу таблицы соответствует каждая из переменных w, x, y, z .

				$(x \wedge \neg y) \vee (x \equiv z) \vee \neg w$
		0	0	0
1	1	1	0	0
1	0			0

Определите, какому столбцу таблицы соответствует каждая из переменных w, x, y, z .
 В ответе напишите буквы w, x, y, z в том порядке, в котором идут соответствующие им столбцы (сначала буква, соответствующая первому столбцу; затем буква, соответствующая второму столбцу, и т.д.). Буквы в ответе пишете подряд, никаких разделителей между буквами ставить не нужно.

Пример. Функция задана выражением $\neg x \vee y$, зависящим от двух переменных, а фрагмент таблицы имеет следующий вид.

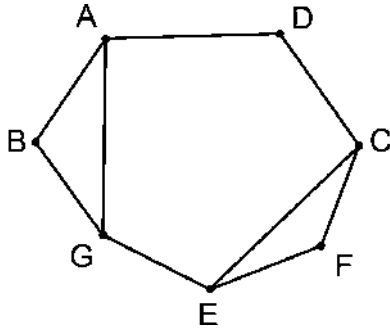
		$\neg x \vee y$
0	1	0

В этом случае первому столбцу соответствует переменная y , а второму столбцу – переменная x . В ответе следует написать yx .

Ответ: _____.

3

На рисунке слева изображена схема дорог N -ского района, в таблице звёздочкой обозначено наличие дороги из одного населённого пункта в другой. Отсутствие звёздочки означает, что такой дороги нет.



		Номер пункта						
		1	2	3	4	5	6	7
Номер пункта	1				*		*	*
	2			*		*		
	3		*			*		*
	4	*						*
	5		*	*			*	
	6	*				*		
	7	*		*	*			

Каждому населённому пункту на схеме соответствует его номер в таблице, но неизвестно, какой именно номер. Определите, какие номера населённых пунктов в таблице могут соответствовать населённым пунктам В и F на схеме. В ответе запишите эти два номера в возрастающем порядке без пробелов и знаков препинания.

Ответ: _____.

4

Ниже представлены два фрагмента таблиц из базы данных о жителях микрорайона. Каждая строка таблицы 2 содержит информацию о ребёнке и об одном из его родителей. Информация представлена значением поля ID в соответствующей строке таблицы 1. На основании приведённых данных определите наибольшую разницу между годами рождения родных сестёр. При вычислении ответа учитывайте только информацию из приведённых фрагментов таблиц.

Примечание. Братьев (сестёр) считать родными, если у них есть хотя бы один общий родитель.

Таблица 1			
ID	Фамилия_И.О.	Пол	Год_рождения
127	Роу И.Т.	Ж	1960
129	Роу К.К.	Ж	1992
130	Роу К.М.	М	1959
137	Роу М.К.	М	1987
138	Фоменко И.И.	Ж	1963
142	Фоменко Н.О.	Ж	1997
146	Фоменко Т.О.	М	1989
149	Чухрай И.Н.	Ж	1937
150	Чухрай И.Т.	М	1932
151	Чухрай М.И.	Ж	1962
152	Эйзенштейн И.Т.	М	1971
153	Эйзенштейн М.И.	Ж	2009
155	Эйзенштейн О.Т.	Ж	1970
156	Эйзенштейн Т.С.	М	1936
...

Таблица 2	
ID_Родителя	ID_Ребёнка
156	127
127	129
130	129
127	137
130	137
149	138
150	138
138	142
138	146
149	151
150	151
156	152
152	153
156	155
...	...

Ответ: _____.

5

Для кодирования некоторой последовательности, состоящей из букв А, Б, В, Г, Д, Е, решили использовать неравномерный двоичный код, удовлетворяющий условию Фано. Для буквы А использовали кодовое слово 00; для буквы Б – кодовое слово 01. Какова **наименьшая** возможная сумма длин кодовых слов для букв В, Г, Д, Е?

Примечание. Условие Фано означает, что никакое кодовое слово не является началом другого кодового слова. Это обеспечивает возможность однозначной расшифровки закодированных сообщений.

Ответ: _____.

6

На вход алгоритма подаётся натуральное число N . Алгоритм строит по нему новое число следующим образом.

3) Строится двоичная запись числа N .

4) К этой записи дописываются справа ещё два разряда по следующему правилу: если N чётное, в конец числа (справа) дописываются два нуля, в противном случае справа дописываются две единицы. Например, двоичная запись 1001 числа 9 будет преобразована в 100111.

Полученная таким образом запись (в ней на два разряда больше, чем в записи исходного числа N) является двоичной записью числа – результата работы данного алгоритма.

Укажите **минимальное** число N , для которого результат работы алгоритма будет больше 3. В ответе это число запишите в десятичной системе счисления.

Ответ: _____.

7

Дан фрагмент электронной таблицы. Из ячейки C3 в ячейку B4 была скопирована формула. При копировании адреса ячеек в формуле автоматически изменились. Каким стало числовое значение формулы в ячейке B4?

	A	B	C	D	E
1	1	2	3	4	5
2	20	30	40	50	60
3	300	400	=B\$2+\$D3	600	700
4	4000		6000	7000	8000

Примечание. Знак \$ обозначает абсолютную адресацию.

Ответ: _____.

8

Запишите число, которое будет напечатано в результате выполнения следующей программы. Для Вашего удобства программа представлена на пяти языках программирования.

Бейсик	Python
<pre>DIM N, S AS INTEGER N = 0 S = 0 WHILE S <= 221 S = S + 11 N = N + 1 WEND PRINT N</pre>	<pre>n = 0 s = 0 while s <= 221: s = s + 11 n = n + 1 print(n)</pre>
Алгоритмический язык	Паскаль
<pre>алг нач цел n, s n := 0 s := 0 нц пока s <= 221 s := s + 11 n := n + 1 кц вывод n кон</pre>	<pre>var n, s: integer; begin n := 0; s := 0; while s <= 221 do begin s := s + 11; n := n + 1 end; write(n) end.</pre>
C++	
<pre>#include <iostream> using namespace std; void main() { int n, s; n = 0; s = 0; while (s <= 221) { s = s + 11; n = n + 1; } cout << n << endl; }</pre>	

Ответ: _____.

9

В терминологии сетей TCP/IP маской сети называется двоичное число, определяющее, какая часть IP-адреса узла сети относится к адресу сети, а какая – к адресу самого узла в этой сети. Обычно маска записывается по тем же правилам, что и IP-адрес, – в виде четырёх байтов, причём каждый байт записывается в виде десятичного числа. При этом в маске сначала (в старших разрядах) стоят единицы, а затем с некоторого разряда – нули. Адрес сети получается в результате применения поразрядной конъюнкции к заданному IP-адресу узла и маске.

Например, если IP-адрес узла равен 231.32.255.131, а маска равна 255.255.240.0, то адрес сети равен 231.32.240.0.

Для узла с IP-адресом 117.191.224.137 адрес сети равен 117.191.192.0. Чему равно наименьшее возможное значение третьего слева байта маски? Ответ запишите в виде десятичного числа.

Ответ: _____.

10

При регистрации в компьютерной системе каждому пользователю выдаётся пароль, состоящий из 15 символов и содержащий только символы из 12-символьного набора: А, В, С, D, E, F, G, H, K, L, M, N. В базе данных для хранения пароля отведено одинаковое и минимально возможное целое число байт. При этом используют посимвольное кодирование паролей, все символы кодируют одинаковым и минимально возможным количеством бит.

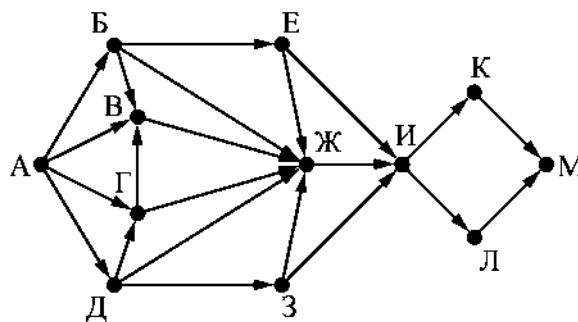
Определите объём памяти (в байтах), необходимый для хранения паролей 100 пользователей. В ответе запишите только целое число – количество байт.

Ответ: _____.

11

На рисунке представлена схема дорог, связывающих города А, Б, В, Г, Д, Е, Ж, З, И, К, Л, М. По каждой дороге можно двигаться только в одном направлении, указанном стрелкой.

Сколько существует различных путей из города А в город М, проходящих через город Ж?



Ответ: _____.

12

В языке запросов поискового сервера для обозначения логической операции «ИЛИ» используется символ «|», а для обозначения логической операции «И» – символ «&».

В таблице приведены запросы и количество найденных по ним страниц некоторого сегмента сети Интернет.

Запрос	Найдено страниц (в сотнях тысяч)
<i>Слон</i>	45
<i>Хобот</i>	28
<i>Ладья</i>	25
<i>Слон & Хобот</i>	20
<i>Ладья & Слон</i>	12
<i>Ладья & Хобот</i>	0

Какое количество страниц (в сотнях тысяч) будет найдено по запросу
Ладья | Слон | Хобот?

Считается, что все запросы выполнялись практически одновременно, так что набор страниц, содержащих все искомые слова, не изменялся за время выполнения запросов.

Ответ: _____.

13

Исполнитель M17 преобразует число, записанное на экране.
У исполнителя есть три команды, которым присвоены номера:

- Прибавить 1
- Прибавить 2
- Умножить на 3

Первая из них увеличивает число на экране на 1, вторая увеличивает его на 2, третья умножает на 3.

Программа для исполнителя M17 – это последовательность команд.

Сколько существует таких программ, которые преобразуют исходное **число 2** в **число 12** и при этом траектория вычислений программы содержит **числа 8** и **10**? Траектория должна содержать оба указанных числа.

Траектория вычислений программы – это последовательность результатов выполнения всех команд программы. Например, для программы **132** при исходном числе 7 траектория будет состоять из чисел 8, 24, 26.

Ответ: _____.

На обработку поступает последовательность из четырёх неотрицательных целых чисел (некоторые числа могут быть одинаковыми). Нужно написать программу, которая выводит на экран количество делящихся нацело на 4 чисел в исходной последовательности и сумму таких чисел. Если делящихся нацело на 4 чисел нет, требуется на экран вывести «NO». Известно, что вводимые числа не превышают 1000. Программист написал программу неправильно. Ниже написанная им программа для Вашего удобства приведена на пяти языках программирования.

Бейсик	Python
<pre> CONST n = 4 count = 0 sum = 0 FOR I = 1 TO n INPUT x IF x mod 4 = 0 THEN count = count + 1 sum = sum + I END IF NEXT I IF n > 0 THEN PRINT count PRINT sum ELSE PRINT "NO" END IF </pre>	<pre> n = 4 count = 0 sum = 0 for i in range(1, n+1): x = int(input()) if x % 4 == 0: count += 1 sum = sum + i if n > 0: print(count) print(sum) else: print("NO") </pre>
Алгоритмический язык	Паскаль
<pre> алг нач цел n = 4 цел i, x цел sum, count count := 0 sum := 0 нц для i от 1 до n ввод x если mod(x, 4) = 0 то count := count + 1 sum := sum + i все кц если n > 0 то вывод count, нс вывод sum, нс иначе вывод "NO" все кон </pre>	<pre> const n = 4; var i, x: integer; var sum, count: integer; begin count := 0; sum := 0; for i := 1 to n do begin read(x); if x mod 4 = 0 then begin count := count + 1; sum := sum + i; end end; end; if n > 0 then begin writeln(count); writeln(sum) end else writeln('NO') end. </pre>

C++

```
#include <iostream>
using namespace std;

int main() {
    const int n = 4;
    int x, sum, count;
    count = 0;
    sum = 0;
    for (int i = 1; i <= n; i++) {
        cin >> x;
        if (x % 4 == 0) {
            count++;
            sum = sum + i;
        }
    }
    if (n > 0) {
        cout << count << endl;
        cout << sum << endl;
    }
    else
        cout << "NO" << endl;
    return 0;
}
```

Последовательно выполните следующее.

4. Напишите, что выведет эта программа при вводе последовательности:

20 93 40 39.

5. Приведите пример такой последовательности, содержащей хотя бы одно делящееся нацело на 4 число, что при её вводе приведённая программа, несмотря на ошибки, выведет правильный ответ.

6. Найдите допущенные программистом ошибки и исправьте их. Исправление ошибки должно затрагивать только строку, в которой находится ошибка. Для каждой ошибки:

1) выпишите строку, в которой сделана ошибка;

2) укажите, как исправить ошибку, т.е. приведите правильный вариант строки.

Известно, что в тексте программы нужно исправить не более двух строк так, чтобы она стала работать правильно.

Достаточно указать ошибки и способ их исправления для одного языка программирования.

Обратите внимание на то, что требуется найти ошибки в имеющейся программе, а не написать свою, возможно, использующую другой алгоритм решения.

Примечание. 0 делится на любое натуральное число.

Два игрока, Петя и Ваня, играют в следующую игру. Перед игроками лежат две кучи камней. Игроки ходят по очереди, первый ход делает Петя. За один ход игрок может добавить в одну из куч (по своему выбору) **один** камень или увеличить количество камней в куче в **три раза**. Например, пусть в одной куче 10 камней, а в другой 7 камней; такую позицию в игре будем обозначать $(10, 7)$. Тогда за один ход можно получить любую из четырёх позиций: $(11, 7)$, $(30, 7)$, $(10, 8)$, $(10, 21)$. Для того чтобы делать ходы, у каждого игрока есть неограниченное количество камней.

Игра завершается в тот момент, когда суммарное количество камней в кучах становится не менее 68. Победителем считается игрок, сделавший последний ход, т.е. первым получивший такую позицию, при которой в кучах будет 68 или больше камней.

В начальный момент в первой куче было шесть камней, во второй куче – S камней; $1 \leq S \leq 61$.

Будем говорить, что игрок имеет *выигрышную стратегию*, если он может выиграть при любых ходах противника. Описать стратегию игрока – значит описать, какой ход он должен сделать в любой ситуации, которая ему может встретиться при различной игре противника. В описание выигрышной стратегии **не следует** включать ходы играющего по этой стратегии игрока, не являющиеся для него безусловно выигрышными, т.е. не являющиеся выигрышными независимо от игры противника.

Выполните следующие задания.

Задание 1

- Укажите все такие значения числа S , при которых Петя может выиграть за один ход.
- Известно, что Ваня выиграл своим первым ходом после неудачного первого хода Пети. Укажите минимальное значение S , когда такая ситуация возможна.

Задание 2

Укажите такое значение S , при котором у Пети есть выигрышная стратегия, причём одновременно выполняются два условия:

- Петя не может выиграть за один ход;
- Петя может выиграть своим вторым ходом независимо от того, как будет ходить Ваня.

Для указанного значения S опишите выигрышную стратегию Пети.

Задание 3

Укажите значение S , при котором одновременно выполняются два условия:

- у Вани есть выигрышная стратегия, позволяющая ему выиграть первым или вторым ходом при любой игре Пети;
- у Вани нет стратегии, которая позволит ему гарантированно выиграть первым ходом.

Для указанного значения S опишите выигрышную стратегию Вани.

Постройте дерево всех партий, возможных при этой выигрышной стратегии Вани (в виде рисунка или таблицы).

В узлах дерева указывайте позиции, на рёбрах рекомендуется указывать ходы. Дерево не должно содержать партии, невозможные при реализации выигрышающим игроком своей выигрышной стратегии. Например, полное дерево игры не является верным ответом на это задание.

